

Atividade de matemática

Nome: _____

Data: _____

Atividade 01:

Qual número está localizado entre 400 e 500 na reta numérica?

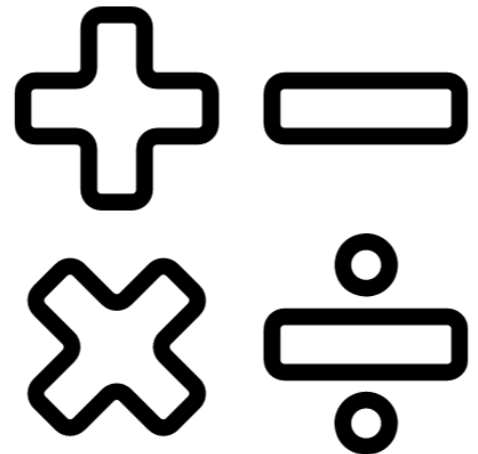
- a) 156
- b) 550
- c) 480
- d) 350

Atividade 02:

Coloque os números a seguir em ordem crescente:

376, 214, 489, 325

- a) 214, 325, 376, 489
- b) 489, 376, 325, 214
- c) 214, 489, 325, 376
- d) 376, 325, 214, 489



Atividade 03:

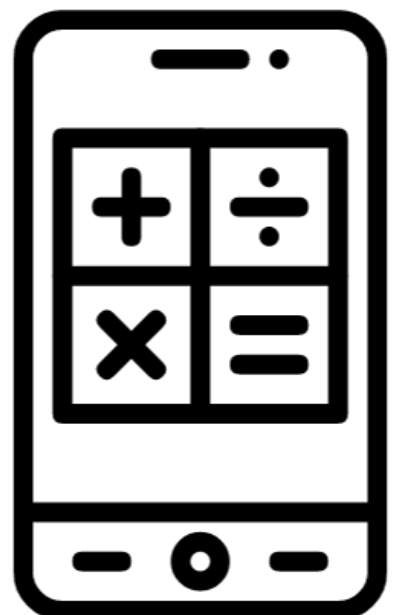
Escreva o número 725 por extenso:

- a) Setecentos e vinte e cinco
- b) Setecentos e cinquenta e dois
- c) Setenta e cinco
- d) Duzentos e vinte e cinco

Atividade 04:

Qual é a forma correta de representar o número seiscentos e quarenta e oito em algarismos?

- a) 684
- b) 468
- c) 846
- d) 648



Atividade 05:

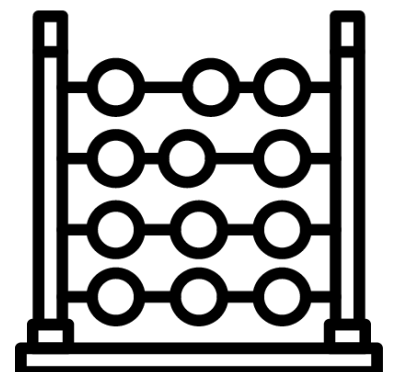
Decomponha o número 539 em centenas, dezenas e unidades:

- a) $50 + 30 + 9$
 - b) $500 + 30 + 9$
 - c) $500 + 3 + 9$
 - d) $50 + 300 + 9$
-

Atividade 06:

Se João tem 367 laranjas e Maria tem 248 laranjas, quantas laranjas eles têm juntos?

- a) 675
- b) 485
- c) 615
- d) 61



Atividade 07:

Pedro tinha 540 lápis e deu 287 para seus amigos.
Quantos lápis Pedro tem agora?

- a) 253
 - b) 827
 - c) 540
 - d) 813
-

Atividade 08:

Calcule a soma de $356 + 128$ usando a decomposição:

- a) 4840
- b) 584
- c) 356128
- d) 484

