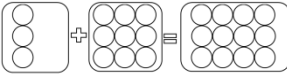
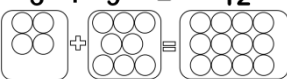
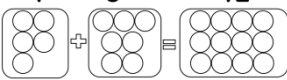
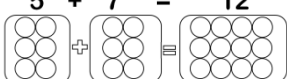
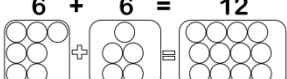
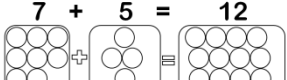

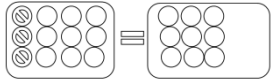
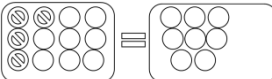
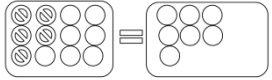



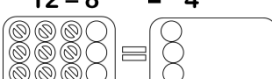


Fato Fundamental 12			
Total 12		Minuendo 12	
 <p>3 + 9 = 12</p>  <p>4 + 8 = 12</p>  <p>5 + 7 = 12</p>  <p>6 + 6 = 12</p>  <p>7 + 5 = 12</p>  <p>8 + 4 = 12</p>  <p>9 + 3 = 12</p>	<p>Organização</p> <p>3 + 9 = 12</p> <p>4 + 8 = 12</p> <p>5 + 7 = 12</p> <p>6 + 6 = 12</p> <p>7 + 5 = 12</p> <p>8 + 4 = 12</p> <p>9 + 3 = 12</p>	 <p>12 - 3 = 9</p>  <p>12 - 4 = 8</p>  <p>12 - 5 = 7</p>  <p>12 - 6 = 6</p>  <p>12 - 7 = 5</p>  <p>12 - 8 = 4</p>  <p>12 - 9 = 3</p>	<p>Organização</p> <p>12 - 3 = 9</p> <p>12 - 4 = 8</p> <p>12 - 5 = 7</p> <p>12 - 6 = 6</p> <p>12 - 7 = 5</p> <p>12 - 8 = 4</p> <p>12 - 9 = 3</p>

1. Julia comprou 229 litros de suco de laranja, 223 litros de suco de manga e 200 pães de queijo.

a) Quantos litros de suco Julia comprou?

b) Do total de suco comprado 219 já foram bebidos. Quantos litros restam?

2. Renato trabalha em uma campanha de saúde, distribuiu 207 folhetos sobre a tuberculose, 355 folhetos sobre a gripe durante uma semana.

a) Quantos folhetos ele distribuiu?

b) Se do total de folhetos distribuídos, 327 foram dados a homens quantos folhetos foram dados a crianças?

3. Patrícia fez 626 biscoitos de polvilho e 356 pães caseiros para vendê-los na feira ao valor de R\$ 1,50 cada pacote.

a) Quantos alimentos Patrícia produziu?

b) Se ela conseguiu vender 526, quantos não foram vendidos?

4. Em uma loja de utensílios domésticos foram expostas à venda 138 colheres de prata para serem vendidas a R\$ 2,00 cada e 104 xícaras de porcelana para serem vendidas R\$ 3,00 cada.

a) Quantos utensílios domésticos foram expostos a venda?

b) De manhã foram vendidos 108 utensílios, quantos permaneceram a venda?