




## ATIVIDADES DE MATEMÁTICA

Nome: \_\_\_\_\_

Data: \_\_\_\_\_

**Exemplo:** Paula é uma menina com 9 anos e coleciona selos. Em sua coleção há 860 selos, ela retirou 214. Quantos selos restaram?

Agrupamento da Unidade para a Dezena			
	C	D	U
$\begin{array}{r} \phantom{=} \\ 8 \cancel{0} \phantom{0} \\ - 214 \\ \hline 646 \end{array}$			
	<b>6</b>	<b>4</b>	<b>6</b>

### Atividades

1. Uma fábrica produziu em janeiro 480 carrinhos e 140 bonecas. Dos carrinhos produzidos 112 estavam com defeito. Quantos estavam bons?

2. Paola é uma menina de 10 anos e foi jogar cartinhas com sua irmã. Em uma partida ganhou 470 figurinhas e em outra perdeu 325. Com quantas figurinhas ela ficou?

3. Em uma granja havia 860 frangos. Desse total, 436 foram vendidos por R\$ 11,00 kg. Quantos frangos restaram nessa granja?

4. No mercado onde Luis trabalha em um dia ele chegaram 460 quilos de feijão e no dia seguinte chegaram 114 quilos de macarrão. Quantos quilos de feijão há a mais que macarrão?

5. Pedro tinha uma coleção de papéis de 560 cartas. Destes papéis de cartas 233 eram repetidas. Quantas cartas eram inéditas?

6. Uma confecção de roupas recebeu uma encomenda de roupas. Devem fazer 950 camisetas e 500 bermudas. Pela manhã foram confeccionadas 435 camisetas, quantas camisetas faltam ser feitas?