

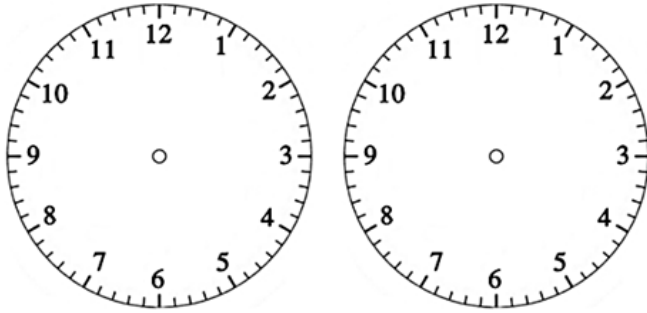
ATIVIDADES DE MATEMÁTICA

Nome: _____

Data: _____

1. Juliana foi ao dentista. Sua consulta começou as 14h30min e terminou as 14h50min.

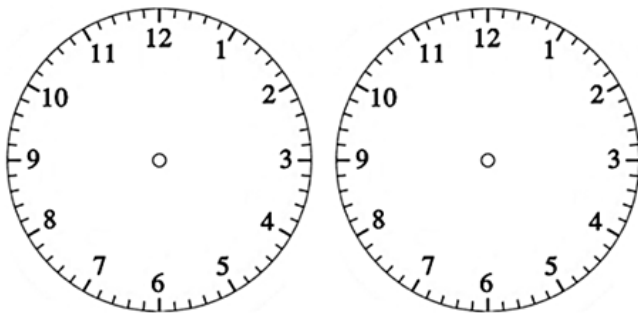
a) Represente nos relógios abaixo o horário de início e término da consulta de Juliana.



b) Quanto tempo durou a consulta de Juliana?

2. Marcelo foi jogar futebol com seus amigos. Ele começou a jogar as 17h15min e parou de jogar as 18h15min.

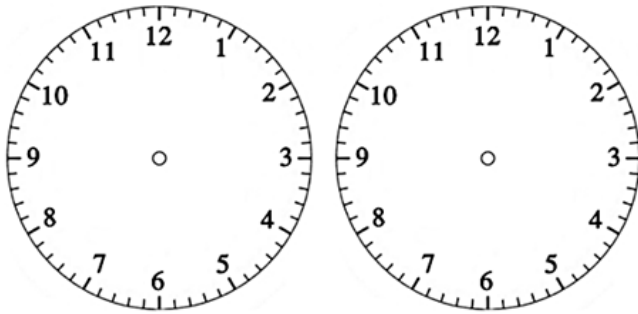
a) Represente nos relógios abaixo o horário que Marcelo começou e parou de jogar futebol.



b) Por quanto tempo Marcelo jogou futebol?

3. Katia assiste todos os dias sua novela preferida. Ela começa as 19h45min e termina as 20h30min.

a) Represente nos relógios abaixo o horário de início e término da novela.



b) Qual o tempo de duração da novela de Kátia?



4. Pedro levou sua televisão para o conserto as 16h10min da segunda-feira e foi busca-la as 16h10min da terça-feira.

a) Quantas horas a televisão ficou no conserto?

b) Quantos dias a televisão ficou no conserto?