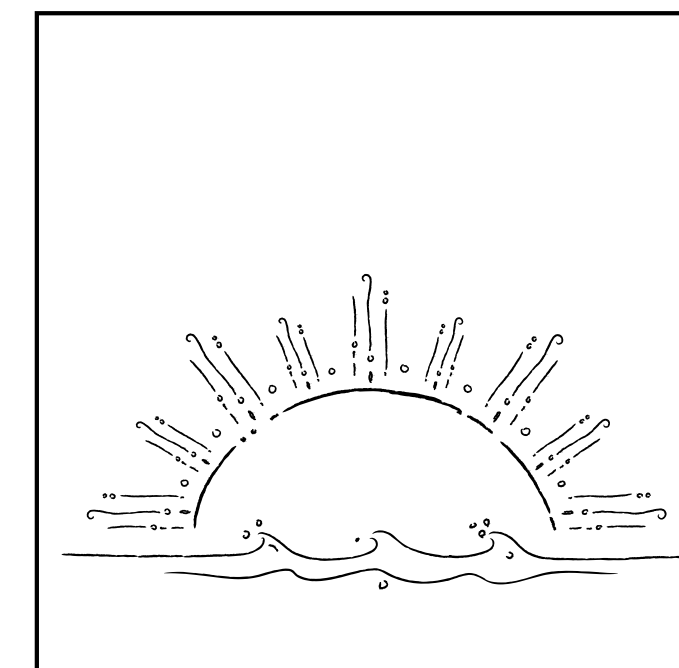


NOME:

DATA:


01) A PRIMEIRA IMAGEM MOSTRA O SOL NASCENDO E O INÍCIO DO DIA. QUE PERÍODO DO DIA É ESSE?

- A) () MANHÃ
- B) () TARDE
- C) () NOITE




02) A SEGUNDA IMAGEM MOSTRA O SOL COMEÇANDO A SE PÔR, MAS AINDA ESTÁ CLARO. QUE PERÍODO DO DIA É ESSE?

- A) () MANHÃ
- B) () TARDE
- C) () NOITE



03) A TERCEIRA IMAGEM MOSTRA UM CÉU ESCURO E ESTRELAS. QUE PERÍODO DO DIA É ESSE?

- A) () MANHÃ
- B) () TARDE
- C) () NOITE



04) LEIA COM ATENÇÃO E COMPLETE AS FRASES ABAIXO COM "**MANHÃ**", "**TARDE**" OU "**NOITE**":

A) QUANDO O SOL ESTÁ NASCENDO, NÓS DIZEMOS QUE É _____.

B) DEPOIS DO ALMOÇO, O SOL AINDA ESTÁ NO CÉU, MAS COMEÇA A SE PREPARAR PARA SE PÔR. ESSE PERÍODO É A _____.

C) QUANDO O SOL JÁ SE ESCONDEU E AS ESTRELAS APARECEM NO CÉU, ESTAMOS NA _____.

05) QUAL DESSES PERÍODOS ACONTECE DEPOIS QUE A MANHÃ TERMINA?

- A) () TARDE
- B) () NOITE
- C) () MADRUGADA

