

AVALIAÇÃO DIAGNÓSTICA

Nome: _____

Data: _____

Escola: _____

Avaliação de Língua Portuguesa

Habilidades BNCC: (EF01LP01), (EF01LP04), (EF01LP07), (EF01LP10).

Questão 1: Escreva o seu primeiro nome no espaço abaixo:

[_____]

Questão 2: Marque com um X apenas onde aparecem letras:

() 123

() CASA

() @#\$%

Questão 3: Complete a sequência com as letras que faltam:

A - ____ - C - D - ____ - F - G - ____ - I

Questão 4: Ligue o desenho à letra inicial do seu nome:

(Maçã) -> M

(Bola) -> B

(Uva) -> U

(Casa) -> C



Questão 5: Qual dessas palavras rima com GATO?

() BOLA

() RATO

() DADO

Questão 6: Escreva do seu jeito o nome da imagem abaixo:



[_____]

Questão 7: Marque a palavra que representa a imagem:




☐ GATO ☐ PATO ☐ CACHORRO

Questão 8: Marque a primeira letra da palavra AMORA:

A M O R A

Questão 9: Olhe a imagem e responda: Onde o menino está?

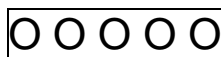


☐ Na escola ☐ No parque ☐ No mercado

Avaliação de Matemática

Habilidades BNCC: (EF01MA01), (EF01MA02),
(EF01MA09), (EF01MA14).

Questão 1: Conte quantos círculos há no quadro e escreva o número:



Resposta: [_____]


Questão 2: Complete os números que vêm depois:

1 - 2 - 3 - ____ - ____ - 6

Questão 3 Marque um X no animal que é o maior:


() Formiga () Cachorro () Elefante

Questão 4: Desenhe uma bola embaixo da mesa:

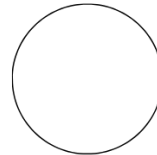


Questão 5: Ligue o nome à forma correta:

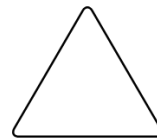
Círculo




Quadrado



Triângulo



Questão 6: Se você tem 2 balas e ganha mais 2 balas, com quantas você fica?



[]

Questão 7: Marque o número 8:

3 - 5 - 8 - 2 - 9

Questão 8: Havia 5 maçãs na árvore. 2 caíram. Quantas sobraram?



Resposta: [_____]

Questão 9: Olhe o gráfico de frutas favoritas e responda:
Qual fruta ganhou mais votos?

Banana: ☐ ☐ ☐ ☐ ☐

Maçã: ☐ ☐

Resposta: [_____]